




## AB 23 Würfel und Würfelgebäude zeichnen

MB 8 / LU 17 S. 36-37



### 1 Würfelgebäude


Aus wie vielen Würfeln sind die Gebäude I bis VI aufgebaut?

I




\_\_\_\_\_

II



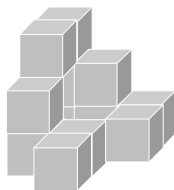
\_\_\_\_\_

III



\_\_\_\_\_

IV



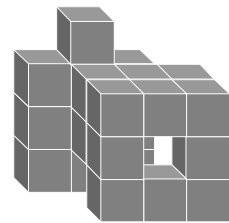
\_\_\_\_\_

V



\_\_\_\_\_

VI



\_\_\_\_\_

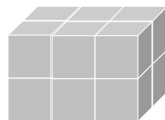
### 2 Würfelgebäude ergänzen

Welche der drei Würfelgebäude können mit Vierlingen dieser Sorte gebaut werden?

I



II



III

