



AB32


Wie viel?

SZB 1 / S. 66 -67




1 Wie viel?

A Wie viele Beine haben 8 Vögel?




Lösung:

B Wie viele Beine haben vier Elefanten?



Lösung:

C Wie viele Beine haben 4 Hasen und 3 Elefanten zusammen?



Lösung: